

# Arbeitsblatt für das Fach Französisch

3. Lernjahr  
Bruchzahlen – Fractions




Schreibe den farbigen Teil als Bruch in Buchstaben.  
Quelle fraction représente la partie colorée dans chaque dessin ?



A



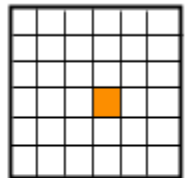
B



C



D



E

F



G



H



I

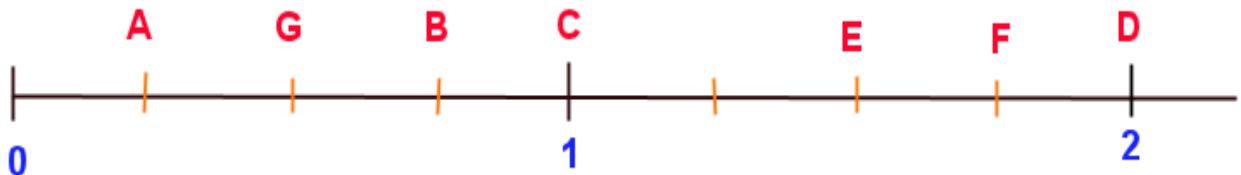


J



Zu welchem Buchstaben gehört der Bruch?

Indique la lettre où l'on peut placer les fractions suivantes :



Weitere anspruchsvolle Proben für viele Schulfächer findest Du auf unserer Partnerseite [www.CATLUX.de](http://www.CATLUX.de).  
Dort gibt es ausführliche Musterlösungen, Proben, Lernzielkontrollen, Schulaufgaben und Klassenarbeiten  
für alle Schularten, Klassen und Fächer, passend zum aktuellen Lehrplan.



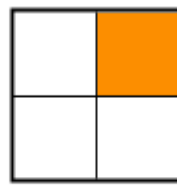
**A**

un quart



**B**

un tiers



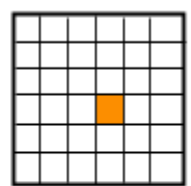
**C**

un quart



**D**

un huitième



**E**

un trente-sixième



F: un tiers

G: trois quarts

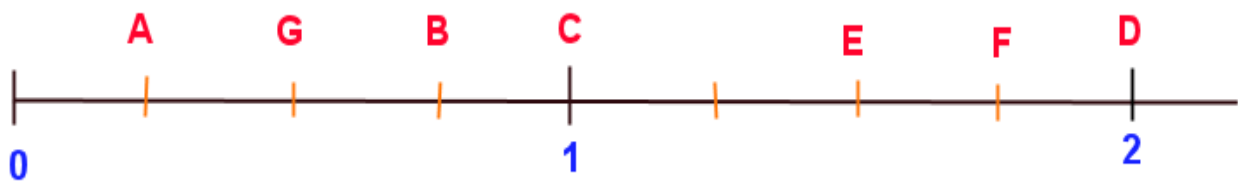
H: un demi

I: trois huitièmes

J: trois cinquièmes

Zu welchem Buchstaben gehört der Bruch?

Indique la lettre où l'on peut placer les fractions suivantes :



A = un quart

C = quatre quarts

D = huit quarts

B = trois quarts

G = un demi

E = six quarts

F = sept quarts