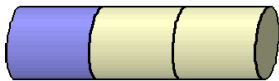





Schreibe zu jeder Figur den entsprechenden Bruch.
Donne la fraction qui correspond à chaque dessin.

















Ordne die Brüche in absteigender Reihenfolge.
Range ces fractions dans l'ordre décroissant.


$4/4$; $1/2$; $3/2$; $1/8$; $1/10$; $1/3$; $1/4$; $1/6$:

--	--	--	--	--	--	--	--



Schreibe die Brüche in Buchstaben.
Ecris les fractions en lettres.

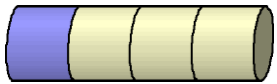
- $3/4$ _____
- $1/4$ _____
- $5/10$ _____
- $25/100$ _____
- $2/7$ _____
- $2/10$ _____
- $3/8$ _____
- $4/4$ _____
- $8/5$ _____
- $5/4$ _____
- $1/2$ _____
- $1/100$ _____
- $25/10$ _____
- $2/3$ _____
- $8/10$ _____
- $2/8$ _____
- $6/8$ _____
- $10/10$ _____
- $3/60$ _____




un tiers



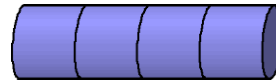
deux tiers



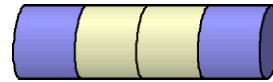
un quart



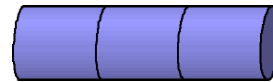
un demi



un entier



deux quarts



un entier

4/4; 1/2; 3/2; 1/8; 1/10; 1/3; 1/4; 1/6:

3/2	>4/4	>1/2	>1/3	>1/4	>1/6	>1/8	>1/10
------------	----------------	----------------	----------------	----------------	----------------	----------------	-----------------

- 3/4 **trois quarts**
- 1/4 **un quart**
- 5/10 **cinq dixièmes**
- 25/100 **vingt-cinq centièmes**
- 2/7 **deux septièmes**
- 2/10 **deux dixièmes**
- 3/8 **trois huitièmes**
- 4/4 **un entier (quatre quarts)**
- 8/5 **huit cinquièmes**
- 5/4 **cinq quarts (un entier un quart)**
- 1/2 **un demi**
- 1/100 **un centième**
- 25/10 **vingt-cinq dixièmes**
- 2/3 **deux tiers**
- 8/10 **huit dixièmes**
- 2/8 **deux dixièmes**
- 6/8 **six huitièmes**
- 10/10 **dix dixièmes**
- 3/60 **trois soixante**