




Wir üben das Addieren im Zahlenraum bis 5.  
Zähle, schreibe auf und rechne!





\_\_\_\_\_ + \_\_\_\_\_ = \_\_\_\_\_



\_\_\_\_\_ + \_\_\_\_\_ = \_\_\_\_\_



\_\_\_\_\_ + \_\_\_\_\_ = \_\_\_\_\_



\_\_\_\_\_ + \_\_\_\_\_ = \_\_\_\_\_



\_\_\_\_\_ + \_\_\_\_\_ = \_\_\_\_\_

1 + 4 = \_\_\_\_\_

3 + 1 = \_\_\_\_\_

2 + 3 = \_\_\_\_\_

0 + 5 = \_\_\_\_\_


2 + 2 = \_\_\_\_\_

1 + 2 = \_\_\_\_\_

# Lösung

Klasse 1

Addieren im Zahlenraum bis 5



4

+



1


=

5



3


+



2

=

5



2


+



1


=

3



2

+



2

=

4



1

+



1

=

2

$$1 + 4 = 5$$

$$3 + 1 = 4$$

$$2 + 3 = 5$$

$$0 + 5 = 5$$

$$2 + 2 = 4$$

$$1 + 2 = 3$$

Weitere anspruchsvolle Proben für das Fach Mathematik findest Du auf unserer Partnerseite [www.CATLUX.de](http://www.CATLUX.de).  
Dort gibt es ausführliche Musterlösungen, Proben, Lernzielkontrollen, Schulaufgaben und Klassenarbeiten für alle Schularten, Klassen und Fächer, passend zum aktuellen LehrplanPLUS.

