



Arbeitsblatt Mathematik

Klasse 1

Subtrahieren im Zahlenraum bis 5




Wir üben das Subtrahieren im Zahlenraum bis 5.
Zähle, schreibe auf und rechne!



_____ - _____ = _____



_____ - _____ = _____



_____ - _____ = _____



_____ - _____ = _____

$5 - 1 = \underline{\hspace{2cm}}$

$2 - 2 = \underline{\hspace{2cm}}$

$4 - 2 = \underline{\hspace{2cm}}$

$3 - 0 = \underline{\hspace{2cm}}$

$3 - 2 = \underline{\hspace{2cm}}$

$5 - 3 = \underline{\hspace{2cm}}$

$5 - 4 = \underline{\hspace{2cm}}$

$5 - 5 = \underline{\hspace{2cm}}$

Weitere anspruchsvolle Proben für das Fach Mathematik findest Du auf unserer Partnerseite www.CATLUX.de.
Dort gibt es ausführliche Musterlösungen, Proben, Lernzielkontrollen, Schulaufgaben und Klassenarbeiten für alle Schularten, Klassen und Fächer, passend zum aktuellen LehrplanPLUS.


Lösung

Klasse 1

Subtrahieren im Zahlenraum bis 5




3



1

2




5



2

3




2




1

1



4



3

1

$$5 - 1 = 4$$

$$2 - 2 = 0$$

$$4 - 2 = 2$$

$$3 - 0 = 3$$

$$3 - 2 = 1$$

$$5 - 3 = 2$$

$$5 - 4 = 1$$

$$5 - 5 = 0$$

Weitere anspruchsvolle Proben für das Fach Mathematik findest Du auf unserer Partnerseite www.CATLUX.de.
Dort gibt es ausführliche Musterlösungen, Proben, Lernzielkontrollen, Schulaufgaben und Klassenarbeiten für
alle Schularten, Klassen und Fächer, passend zum aktuellen LehrplanPLUS.