



Wir üben das Addieren und Subtrahieren im Zahlenraum bis 5.
Zähle, schreibe auf und rechne!




-

=





+

=



+

=



-

=

$5 - 2 = \underline{\hspace{2cm}}$

$1 + 4 = \underline{\hspace{2cm}}$

$1 + 2 = \underline{\hspace{2cm}}$

$1 - 1 = \underline{\hspace{2cm}}$

$5 - 1 = \underline{\hspace{2cm}}$

$3 - 2 = \underline{\hspace{2cm}}$


$2 + 2 = \underline{\hspace{2cm}}$

$0 + 2 = \underline{\hspace{2cm}}$

Lösung

Klasse 1

Addieren und Subtrahieren im Zahlenraum bis 5



4



2


-

=

2



3



1


+

=

4



2




3


+

=

5



5



3

-

=

2

$$5 - 2 = 3$$

$$1 + 4 = 5$$

$$1 + 2 = 3$$

$$1 - 1 = 0$$

$$5 - 1 = 4$$

$$3 - 2 = 1$$

$$2 + 2 = 4$$

$$0 + 2 = 2$$

Weitere anspruchsvolle Proben für das Fach Mathematik findest Du auf unserer Partnerseite www.CATLUX.de.
Dort gibt es ausführliche Musterlösungen, Proben, Lernzielkontrollen, Schulaufgaben und Klassenarbeiten für alle Schularten, Klassen und Fächer, passend zum aktuellen LehrplanPLUS.