



# Arbeitsblatt Mathematik

Klasse 1

Addieren im Zahlenraum bis 10 (+ die Zahl 0)



Wir üben das Addieren im Zahlenraum bis 10.  
Zähle, schreibe auf und rechne!



\_\_\_\_\_

+



\_\_\_\_\_

=

\_\_\_\_\_



\_\_\_\_\_

+



\_\_\_\_\_

=

\_\_\_\_\_



\_\_\_\_\_


+



\_\_\_\_\_


=

\_\_\_\_\_



\_\_\_\_\_

+



\_\_\_\_\_

\_\_\_\_\_

$4 + 2 = \underline{\hspace{2cm}}$

$5 + 5 = \underline{\hspace{2cm}}$

$2 + 8 = \underline{\hspace{2cm}}$

$5 + 2 = \underline{\hspace{2cm}}$

$7 + 3 = \underline{\hspace{2cm}}$

$6 + 3 = \underline{\hspace{2cm}}$

$3 + 4 = \underline{\hspace{2cm}}$


$0 + 8 = \underline{\hspace{2cm}}$

Weitere anspruchsvolle Proben für das Fach Mathematik findest Du auf unserer Partnerseite [www.CATLUX.de](http://www.CATLUX.de).  
Dort gibt es ausführliche Musterlösungen, Proben, Lernzielkontrollen, Schulaufgaben und Klassenarbeiten für  
alle Schularten, Klassen und Fächer, passend zum aktuellen LehrplanPLUS.

# Lösung

Klasse 1

Addieren im Zahlenraum bis 10 (+ die Zahl 0)



5

+



3


=

8



3

+



2

=

5



3


+



3


=

6



5

+



4

9

$$4 + 2 = 6$$

$$5 + 5 = 10$$

$$2 + 8 = 10$$

$$5 + 2 = 7$$

$$7 + 3 = 10$$

$$6 + 3 = 9$$

$$3 + 4 = 7$$

$$0 + 8 = 8$$

Weitere anspruchsvolle Proben für das Fach Mathematik findest Du auf unserer Partnerseite [www.CATLUX.de](http://www.CATLUX.de).  
Dort gibt es ausführliche Musterlösungen, Proben, Lernzielkontrollen, Schulaufgaben und Klassenarbeiten für alle Schularten, Klassen und Fächer, passend zum aktuellen LehrplanPLUS.

