




Arbeitsblatt Mathematik

Klasse 1

Subtrahieren im Zahlenraum bis 10 (+ die Zahl 0)



Wir üben das Subtrahieren im Zahlenraum bis 10.
Zähle, schreibe auf und rechne!



-

= _____




-

= _____



-

= _____



-

= _____

$7 - 2 = \underline{\hspace{2cm}}$

$8 - 4 = \underline{\hspace{2cm}}$

$5 - 3 = \underline{\hspace{2cm}}$

$4 - 2 = \underline{\hspace{2cm}}$

$6 - 3 = \underline{\hspace{2cm}}$

$9 - 8 = \underline{\hspace{2cm}}$

$7 - 4 = \underline{\hspace{2cm}}$

$8 - 8 = \underline{\hspace{2cm}}$


Weitere anspruchsvolle Proben für das Fach Mathematik findest Du auf unserer Partnerseite www.CATLUX.de.

Dort gibt es ausführliche Musterlösungen, Proben, Lernzielkontrollen, Schulaufgaben und Klassenarbeiten für alle Schularten, Klassen und Fächer, passend zum aktuellen LehrplanPLUS.


Lösung

Klasse 1

Subtrahieren im Zahlenraum bis 10 (+ die Zahl 0)



2



1

—

= 2



3



2

—

= 1




5


—

2

= 3



6



5

—

= 1

$$7 - 2 = 5$$

$$8 - 4 = 4$$

$$5 - 3 = 2$$

$$4 - 2 = 2$$

$$6 - 3 = 3$$

$$9 - 8 = 1$$

$$7 - 4 = 3$$

$$8 - 8 = 0$$

Weitere anspruchsvolle Proben für das Fach Mathematik findest Du auf unserer Partnerseite www.CATLUX.de.
Dort gibt es ausführliche Musterlösungen, Proben, Lernzielkontrollen, Schulaufgaben und Klassenarbeiten für alle Schularten, Klassen und Fächer, passend zum aktuellen LehrplanPLUS.