



Arbeitsblatt Mathematik

Klasse 1

Addieren und Subtrahieren im Zahlenraum bis 10 (+ die Zahl 0)



Wir üben das addieren und subtrahieren im Zahlenraum bis 10.




+



=



+




=




-



=



-



=

$5 - 3 = \underline{\hspace{2cm}}$

$4 - 2 = \underline{\hspace{2cm}}$

$2 + 8 = \underline{\hspace{2cm}}$

$5 + 5 = \underline{\hspace{2cm}}$

$6 + 3 = \underline{\hspace{2cm}}$

$6 - 3 = \underline{\hspace{2cm}}$

$8 - 8 = \underline{\hspace{2cm}}$

$7 + 3 = \underline{\hspace{2cm}}$


Weitere anspruchsvolle Proben für das Fach Mathematik findest Du auf unserer Partnerseite www.CATLUX.de.

Dort gibt es ausführliche Musterlösungen, Proben, Lernzielkontrollen, Schulaufgaben und Klassenarbeiten für alle Schularten, Klassen und Fächer, passend zum aktuellen LehrplanPLUS.

Lösung

Klasse 1

Addieren und Subtrahieren im Zahlenraum bis 10 (+ die Zahl 0)



5

+



3


=

8



3

+



2

=

5



3

-



2

=

1



6

-



5

=

1



$$5 - 3 = 2$$

$$4 - 2 = 2$$

$$2 + 8 = 10$$

$$5 + 5 = 10$$

$$6 + 3 = 9$$

$$6 - 3 = 3$$

$$8 - 8 = 0$$

$$7 + 3 = 10$$

Weitere anspruchsvolle Proben für das Fach Mathematik findest Du auf unserer Partnerseite www.CATLUX.de.
Dort gibt es ausführliche Musterlösungen, Proben, Lernzielkontrollen, Schulaufgaben und Klassenarbeiten für alle Schularten, Klassen und Fächer, passend zum aktuellen LehrplanPLUS.

