


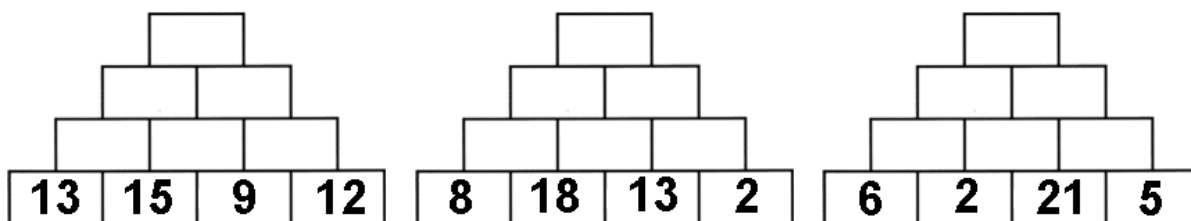
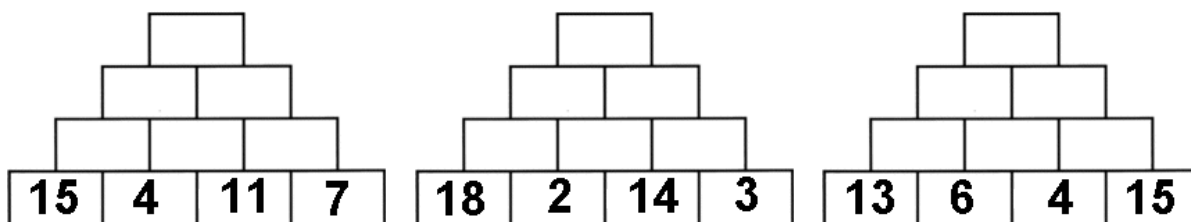
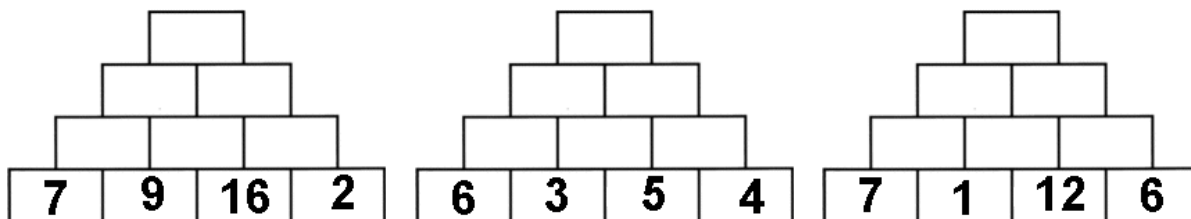
Arbeitsblatt für das Fach Mathe

Klasse 3


Zahlenraum bis 100: Addieren mit Zehnerübergang (Zahlenmauern)



Löse die Zahlenmauern!



Viel Erfolg!

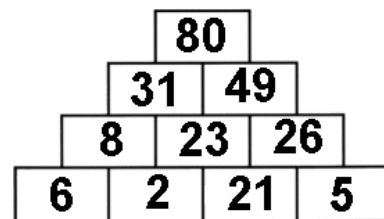
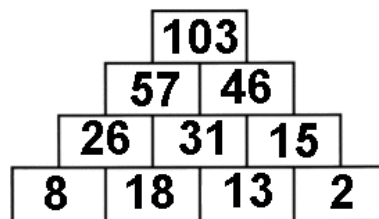
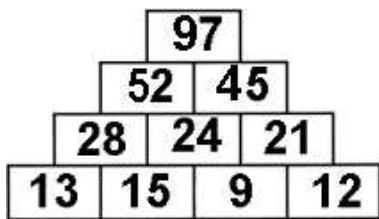
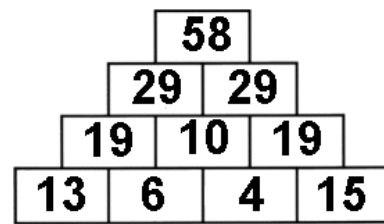
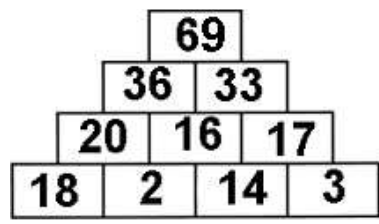
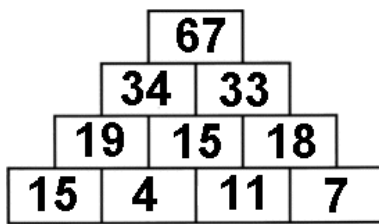
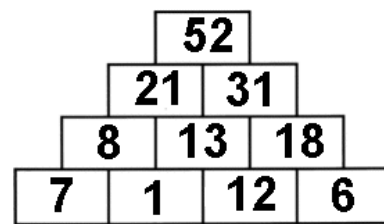
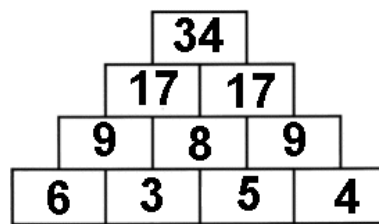
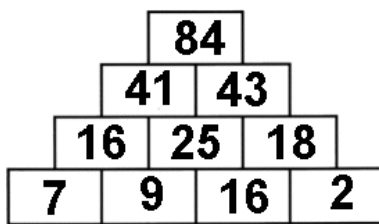


Weitere anspruchsvolle Proben für das Fach Mathematik in der dritten Klasse findest Du auf unserer Partnerseite www.CATLUX.de. Dort gibt es ausführliche Musterlösungen, anspruchsvolle Proben, Lernzielkontrollen, Schulaufgaben und Klassenarbeiten für alle Schularten, Klassen und Fächer, passend zum aktuellen LehrplanPLUS.

Arbeitsblatt für das Fach Mathe

Klasse 3

Zahlenraum bis 100: Addieren mit Zehnerübergang (Zahlenmauern)



Weitere anspruchsvolle Proben für das Fach Mathematik in der dritten Klasse findest Du auf unserer Partnerseite www.CATLUX.de. Dort gibt es ausführliche Musterlösungen, anspruchsvolle Proben, Lernzielkontrollen, Schulaufgaben und Klassenarbeiten für alle Schularten, Klassen und Fächer, passend zum aktuellen LehrplanPLUS.

