

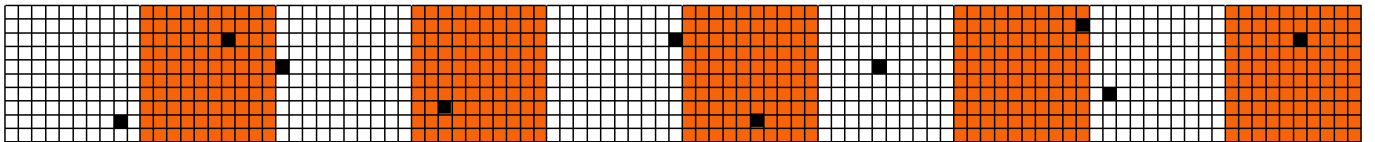

# Arbeitsblatt für das Fach Mathe

Klasse 3

Tausenderstreifen, Tausenderfeld, Hundertertafel



Tausenderstreifen. Wie heißen die schwarzen Zahlen?



In welches Kästchen gehören die Zahlen? Male es farbig an!



510 (grün)


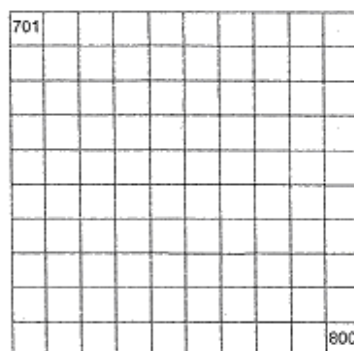
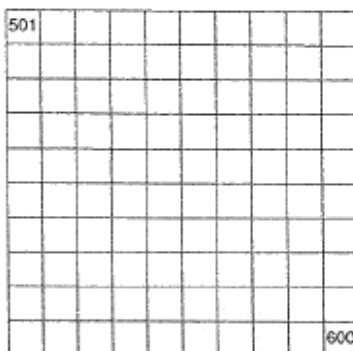
715 (blau)

820 (rot)

534 (schwarz)

766 (braun)

879 (gelb)



Weitere anspruchsvolle Proben für das Fach Mathematik in der dritten Klasse findest Du auf unserer Partnerseite [www.CATLUX.de](http://www.CATLUX.de). Dort gibt es ausführliche Musterlösungen, Proben, Lernzielkontrollen, Schulaufgaben und Klassenarbeiten für alle Schularten, Klassen und Fächer, passend zum aktuellen LehrplanPLUS.

# Lösung

Klasse 3

Tausenderstreifen, Tausenderfeld, Hundertertafel



4	150 882	236 922	400	404	591	601	665
89	137 872	251 936	373	430	586	665	720

510 (grün)

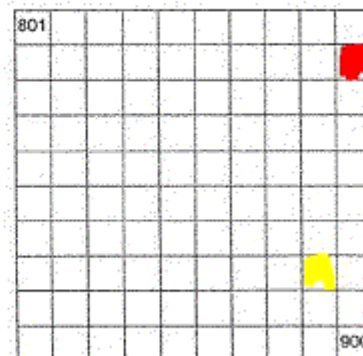
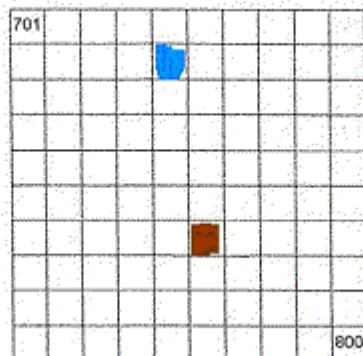
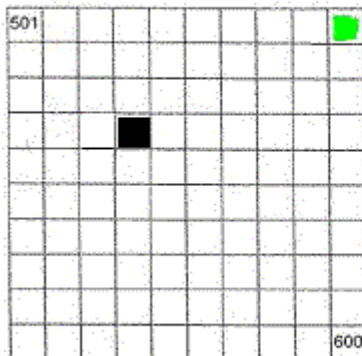
715 (blau)

820 (rot)

534 (schwarz)

766 (braun)

879 (gelb)



Weitere anspruchsvolle Proben für das Fach Mathematik in der dritten Klasse findest Du auf unserer Partnerseite [www.CATLUX.de](http://www.CATLUX.de). Dort gibt es ausführliche Musterlösungen, Proben, Lernzielkontrollen, Schulaufgaben und Klassenarbeiten für alle Schularten, Klassen und Fächer, passend zum aktuellen LehrplanPLUS.

