


Arbeitsblatt für das Fach Mathe

Klasse 3

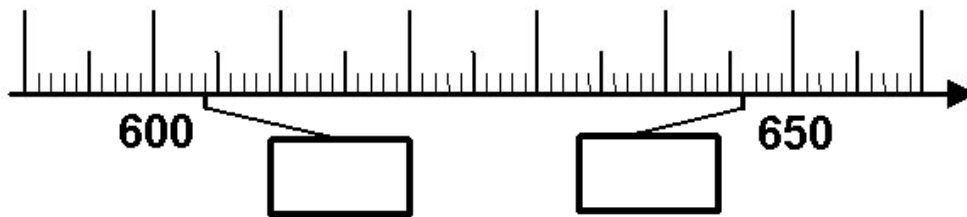
Zahlenstrahl im Zahlenraum bis 1 000



Verbinde die Zahlen mit dem Zahlenstrahl bzw. trage sie ein!

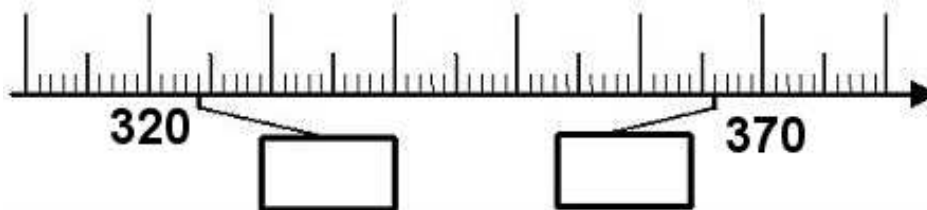
626

638



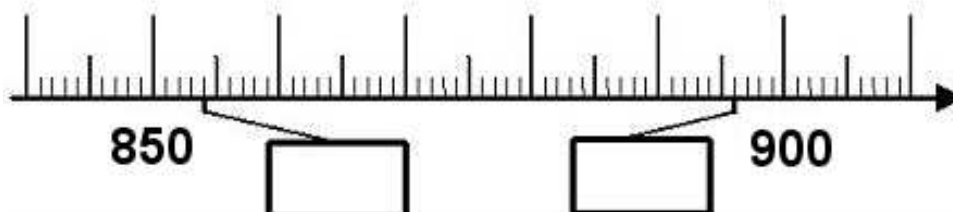
355

362



884

867

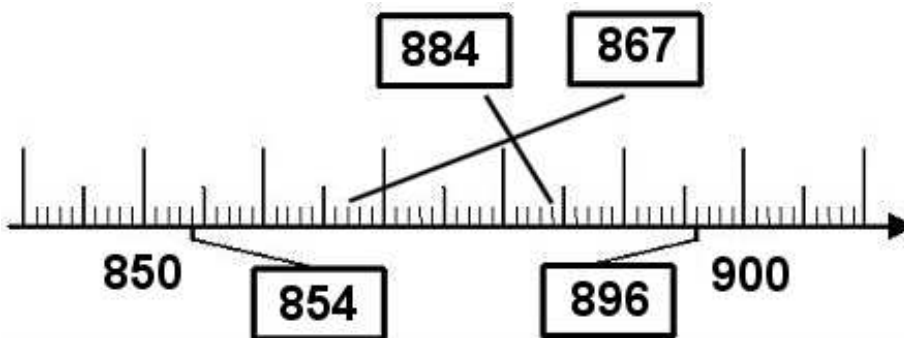
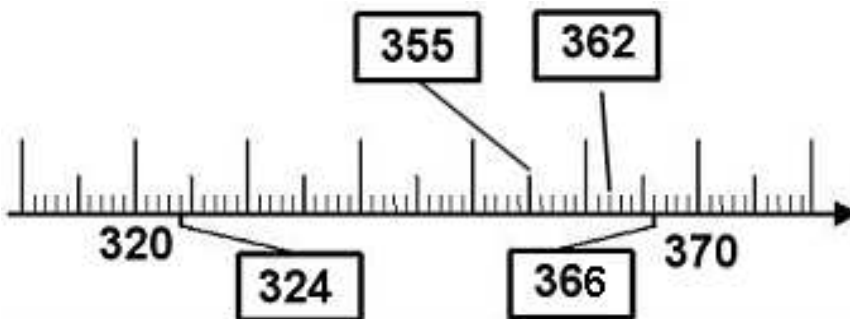
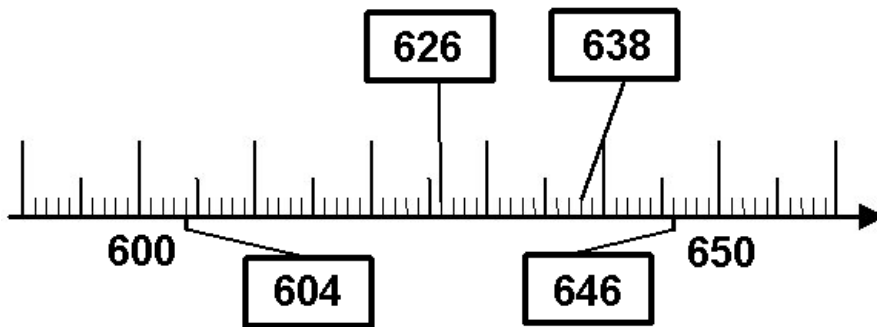


Weitere anspruchsvolle Proben für das Fach Mathematik in Klasse 3 findest Du auf unserer Partnerseite www.CATLUX.de. Dort gibt es ausführliche Musterlösungen, Proben, Lernzielkontrollen, Schulaufgaben und Klassenarbeiten für alle Schularten, Klassen und Fächer, passend zum aktuellen LehrplanPLUS.

Lösung

Klasse 3

Zahlenstrahl im Zahlenraum bis 1 000



Weitere anspruchsvolle Proben für das Fach Mathematik in Klasse 3 findest Du auf unserer Partnerseite www.CATLUX.de. Dort gibt es ausführliche Musterlösungen, Proben, Lernzielkontrollen, Schulaufgaben und Klassenarbeiten für alle Schularten, Klassen und Fächer, passend zum aktuellen LehrplanPLUS.



Dokument-Nr.	114	19.11.2018
Kategorie	mathe klasse 3	
Bezeichnung des Dokuments	kostenloses Arbeitsblatt für die Grundschule Zahlenstrahl im Zahlenraum bis 1 000	
Schule	Grundschule	
Klasse	Klasse 3	
Fächer	Mathe	
Text	kostenloses Arbeitsblatt für die Grundschule Zahlenstrahl im Zahlenraum bis 1 000. Hier müssen die Kinder Zahlen am Zahlenstrahl erkennen bzw. Zahlen am Zahlenstrahl eintragen	
Sortierung in der Rubrik	Oberpunkt: Zahlenstrahl an 1. Stelle setzen	
Anmerkungen persönlich intern		