
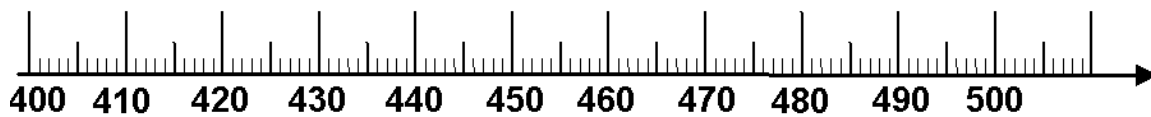
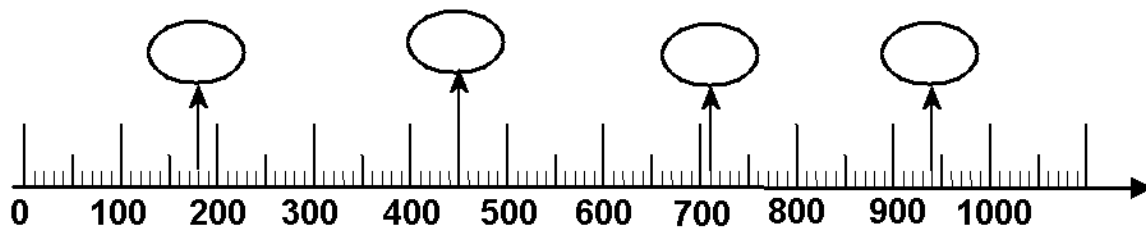


Zeichne diese Zahlen mit Ballons ein: 402, 436, 475, 505



Wie heißen diese Zahlen? Trage sie in die Ballons ein!



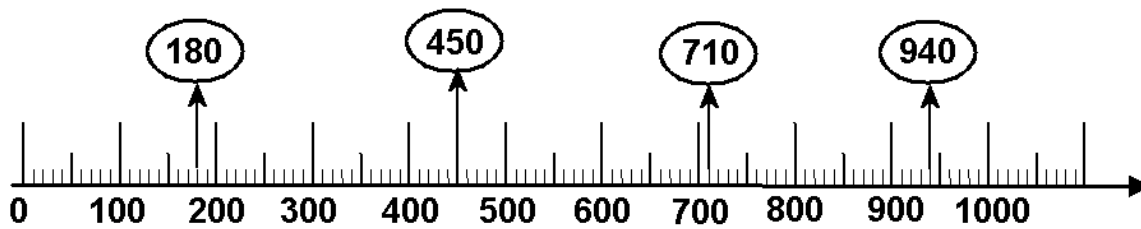
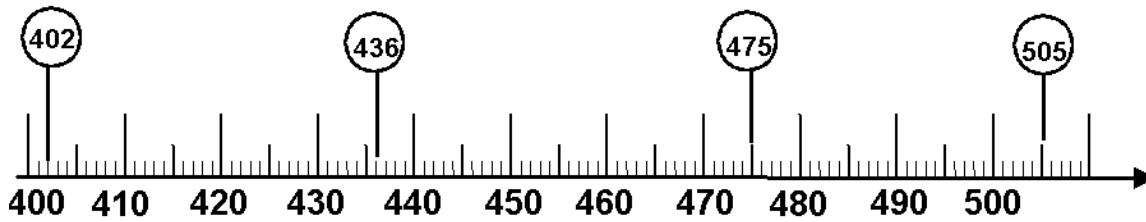
**Viel Erfolg!**



# Arbeitsblatt für das Fach Mathe

Klasse 3

Zahlenstrahl im Zahlenraum bis 1 000



Weitere anspruchsvolle Proben für das Fach Mathematik in der dritten Klasse findest Du auf unserer Partnerseite [www.CATLUX.de](http://www.CATLUX.de). Dort gibt es ausführliche Musterlösungen, anspruchsvolle Proben, Lernzielkontrollen, Schulaufgaben und Klassenarbeiten für alle Schularten, Klassen und Fächer, passend zum aktuellen LehrplanPLUS.

