



# Arbeitsblatt für das Fach Mathe

Klasse 3

Zahlenraum bis 1 000: Rechnen mit Geld mit dem Euro




Wie viel Geld ist es?




\_\_\_\_\_ €



\_\_\_\_\_ €



\_\_\_\_\_ €



\_\_\_\_\_ €

Weitere anspruchsvolle Proben für das Fach Mathematik in der dritten Klasse findest Du auf unserer Partnerseite [www.CATLUX.de](http://www.CATLUX.de). Dort gibt es ausführliche Musterlösungen, anspruchsvolle Proben, Lernzielkontrollen, Schulaufgaben und Klassenarbeiten für alle Schularten, Klassen und Fächer, passend zum aktuellen LehrplanPLUS.

# Lösung

Klasse 3

Zahlenraum bis 1 000: Rechnen mit Geld mit dem Euro

---



**265€**

**249€**

**702€**

**754€**

Weitere anspruchsvolle Proben für das Fach Mathematik in der dritten Klasse findest Du auf unserer Partnerseite [www.CATLUX.de](http://www.CATLUX.de). Dort gibt es ausführliche Musterlösungen, anspruchsvolle Proben, Lernzielkontrollen, Schulaufgaben und Klassenarbeiten für alle Schularten, Klassen und Fächer, passend zum aktuellen LehrplanPLUS.

