


# Arbeitsblatt für das Fach Mathe





Klasse 3

Zahlenraum bis 1 000: Rechnen mit Geld mit dem Euro



Bezahle mit möglichst wenig Scheinen oder Münzen!

Betrag									
794 €									
486 €									
129 €									
999 €									

Betrag									
503 €									
786 €									
875 €									
909 €									

Betrag									
101 €									
556 €									
871 €									

Weitere anspruchsvolle Proben für das Fach Mathematik in der dritten Klasse findest Du auf unserer Partnerseite [www.CATLUX.de](http://www.CATLUX.de). Dort gibt es ausführliche Musterlösungen, anspruchsvolle Proben, Lernzielkontrollen, Schulaufgaben und Klassenarbeiten für alle Schularten, Klassen und Fächer, passend zum aktuellen LehrplanPLUS.








# Lösung









Klasse 3

Zahlenraum bis 1 000: Rechnen mit Geld mit dem Euro



Betrag									
794 €	1	1	1	1	2			2	
486 €		2		1	1	1	1		1
129 €			1		1		1	2	
999 €	1	2		1	2		1	2	

Betrag									
503 €	1	1							1
786 €	1		1	1	1	1		1	1
875 €									
909 €		2	1					2	1

Betrag									
101 €			1						1
556 €	1			1			1		1
871 €	1	1	1	1	1				1

Weitere anspruchsvolle Proben für das Fach Mathematik in der dritten Klasse findest Du auf unserer Partnerseite [www.CATLUX.de](http://www.CATLUX.de). Dort gibt es ausführliche Musterlösungen, anspruchsvolle Proben, Lernzielkontrollen, Schulaufgaben und Klassenarbeiten für alle Schularten, Klassen und Fächer, passend zum aktuellen LehrplanPLUS.