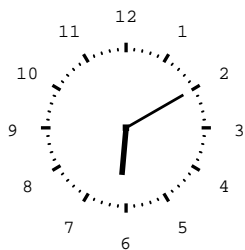


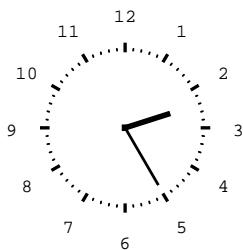


Wie spät ist es? Schreibe die Uhrzeit unter das Ziffernblatt.  
Beachte die Tageszeit!



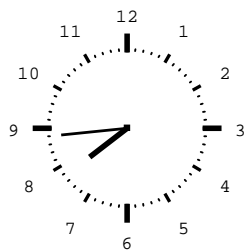
Abend

\_\_\_\_\_



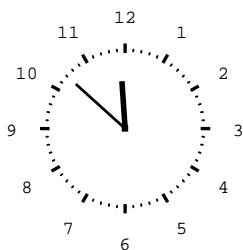
Morgen

\_\_\_\_\_




Abend

\_\_\_\_\_



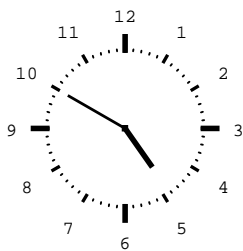
Morgen

\_\_\_\_\_



Abend

\_\_\_\_\_



Morgen

\_\_\_\_\_



Wie viele Minuten vergehen bis zur nächsten Stunde?

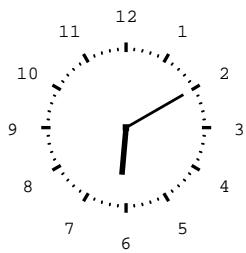
14.03 Uhr	20.12 Uhr	4.46 Uhr	00.09 Uhr
_____ min	_____ min	_____ min	_____ min

**Viel Erfolg!**

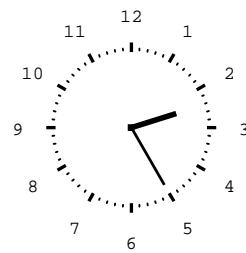
# Lösung

Klasse 3

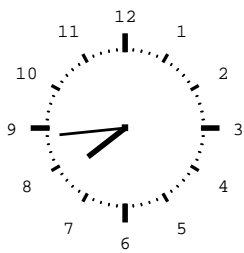
Zeit und Uhr



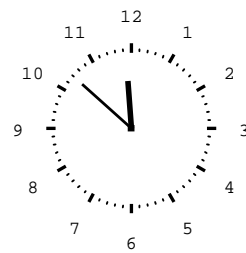
Abend  
**18.10 Uhr**



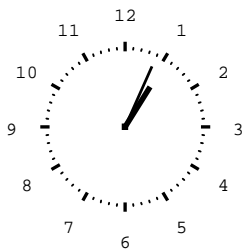
Morgen  
**2:25 Uhr**



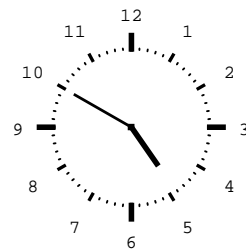
Abend  
**19:44 Uhr**



Morgen  
**11:52 Uhr**



Abend  
**13:04 Uhr**



Morgen  
**4:50 Uhr**

14.03 Uhr	20.12 Uhr	4.46 Uhr	00.09 Uhr
<b>57 min</b>	<b>48 min</b>	<b>14 min</b>	<b>51 min</b>

Weitere anspruchsvolle Proben für das Fach Mathematik in Klasse 3 findest Du auf unserer Partnerseite [www.CATLUX.de](http://www.CATLUX.de). Dort gibt es ausführliche Musterlösungen, Proben, Lernzielkontrollen, Schulaufgaben und Klassenarbeiten für alle Schularten, Klassen und Fächer, passend zum aktuellen LehrplanPLUS.

