





# Arbeitsblatt für das Fach Mathe

Klasse 2

Zahlenraum 100: Zahlen kennenlernen



Kreise immer die größere Zahl ein!



...65

98

96

.....25

34

45

...18

17

23

.....32

42

22

.....87

77

93

...59

29

69



# Lösung

Klasse 2

Zahlenraum 100: Zahlen kennenlernen



...65  
98  
96

.....25  
34  
45

...18  
17  
23

.....32  
42  
22

.....87  
77  
93

...59  
29  
69

