



Welche Zahlen sind das?













- Fünfundzwanzig \_\_\_\_\_
- Zweiundsiebzig \_\_\_\_\_
- Achtundneunzig \_\_\_\_\_
- Dreiundfünfzig \_\_\_\_\_
- Fünfundvierzig \_\_\_\_\_
- Vierundfünfzig \_\_\_\_\_
- Neunundachtzig \_\_\_\_\_
- Dreißig \_\_\_\_\_
- Sechsendfünfzig \_\_\_\_\_
- Zweiunddreißig \_\_\_\_\_
- Vierundzwanzig \_\_\_\_\_
- Einundachtzig \_\_\_\_\_

# Lösung

Klasse 2

Zahlenraum 100: Zahlen kennenlernen



 Fünfundzwanzig	<b>25</b>
 Zweiundsiebzig	<b>72</b>
 Achtundneunzig	<b>98</b>
 Dreiundfünfzig	<b>53</b>
 Fünfundvierzig	<b>45</b>
 Vierundfünfzig	<b>54</b>
 Neunundachtzig	<b>89</b>
 Dreißig	<b>30</b>
 Sechsendfünfzig	<b>56</b>
 Zweiunddreißig	<b>32</b>
 Vierundzwanzig	<b>24</b>
 Einundachtzig	<b>81</b>

Weitere anspruchsvolle Proben für das Fach Mathematik 2. Klasse findest Du auf unserer Partnerseite [www.CATLUX.de](http://www.CATLUX.de). Dort gibt es ausführliche Musterlösungen, Proben, Lernzielkontrollen, Schulaufgaben und Klassenarbeiten für alle Schularten, Klassen und Fächer, passend zum aktuellen LehrplanPLUS.

