

# Arbeitsblatt für das Fach Mathe

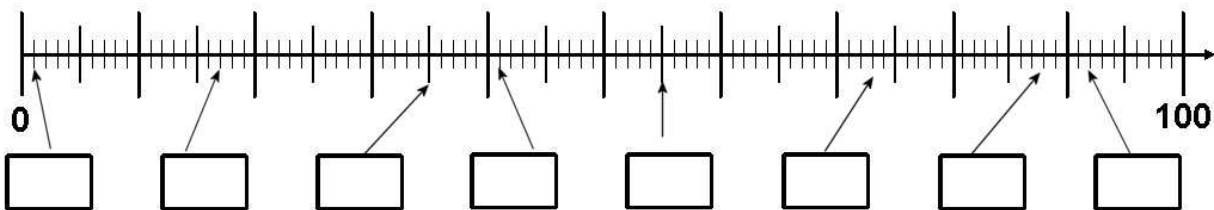
Klasse 2

Zahlenraum 100: Zahlenstrahl

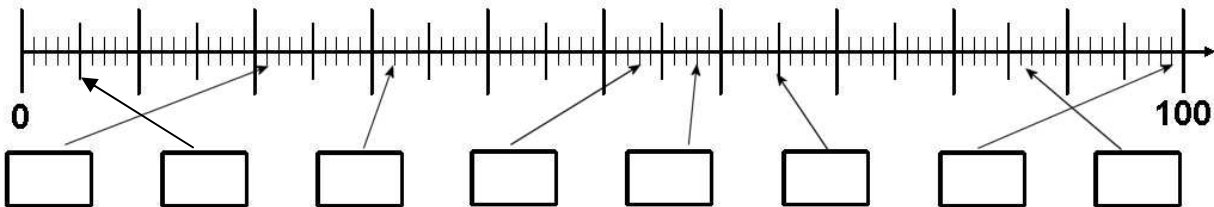


Trage die Zahlen am Zahlenstrahl ein bzw. verbinde mit Pfeilen!

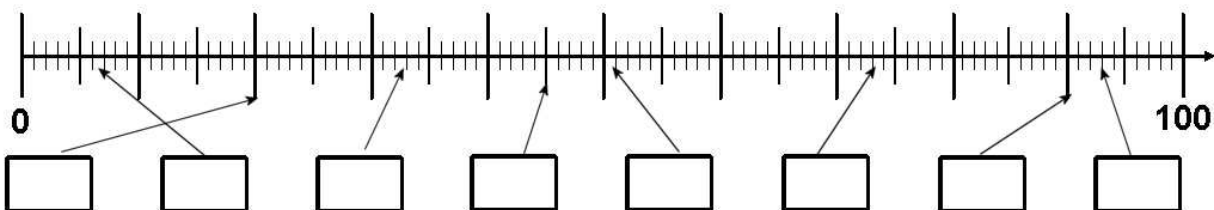
24 31 46 52 67 73 89 98



11 29 15 37 45 54 66 80



9 25 34 46 57 68 79 86



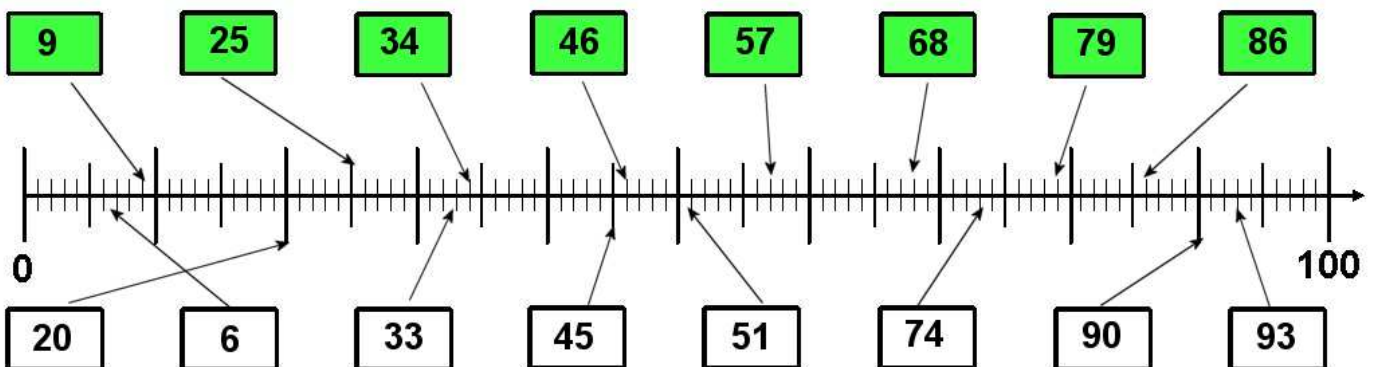
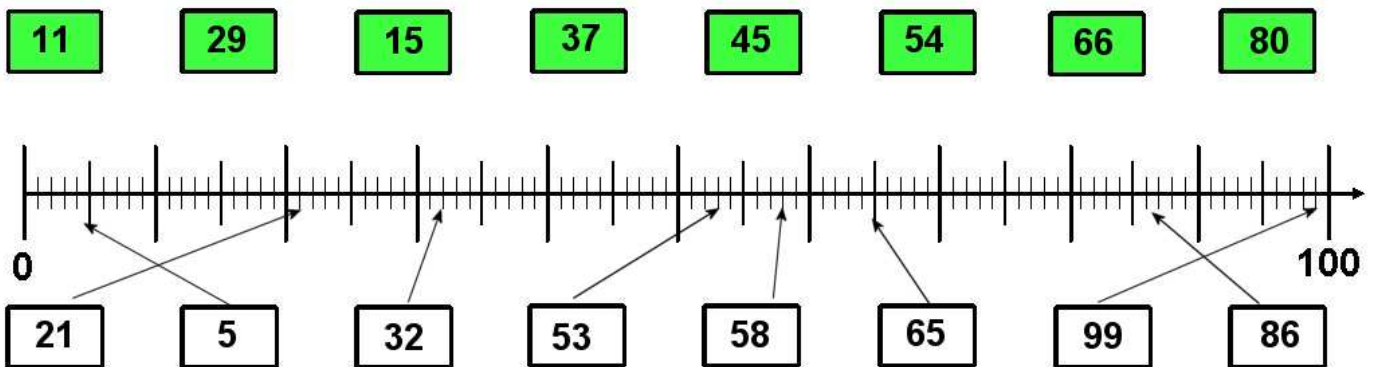
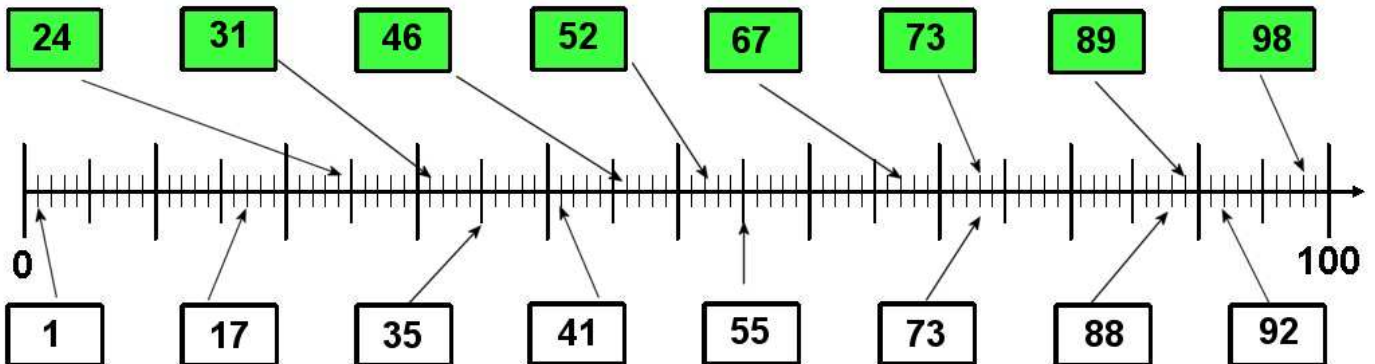
Weitere anspruchsvolle Proben für das Fach Mathematik 2. Klasse findest Du auf unserer Partnerseite [www.CATLUX.de](http://www.CATLUX.de). Dort gibt es ausführliche Musterlösungen, Proben, Lernzielkontrollen, Schulaufgaben und Klassenarbeiten für alle Schularten, Klassen und Fächer, passend zum aktuellen LehrplanPLUS.



# Lösung

Klasse 2

Zahlenraum 100: Zahlenstrahl



Weitere anspruchsvolle Proben für das Fach Mathematik 2. Klasse findest Du auf unserer Partnerseite [www.CATLUX.de](http://www.CATLUX.de). Dort gibt es ausführliche Musterlösungen, Proben, Lernzielkontrollen, Schulaufgaben und Klassenarbeiten für alle Schularten, Klassen und Fächer, passend zum aktuellen LehrplanPLUS.

