

Arbeitsblatt für das Fach Mathe

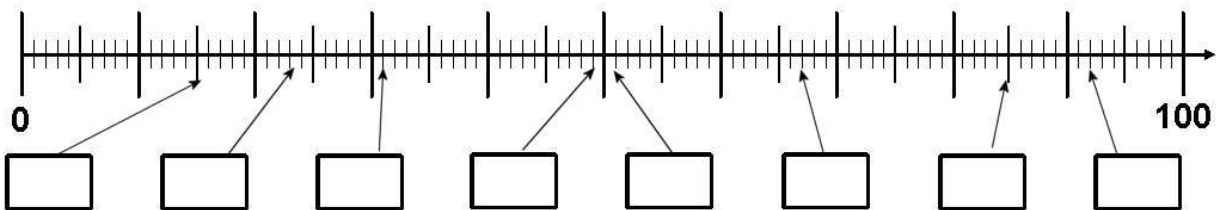
Klasse 2

Zahlenraum 100: Zahlenstrahl

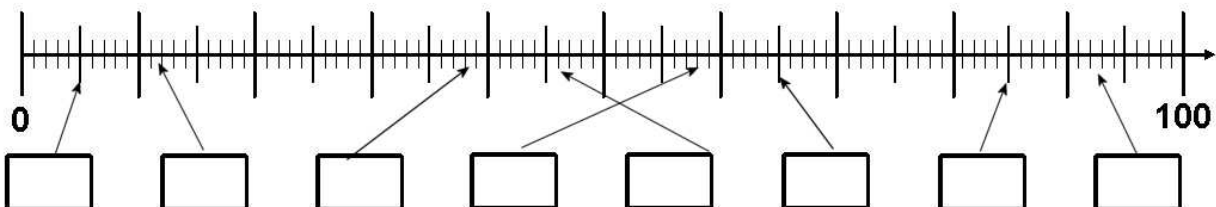


Trage die Zahlen am Zahlenstrahl ein bzw. verbinde mit Pfeilen!

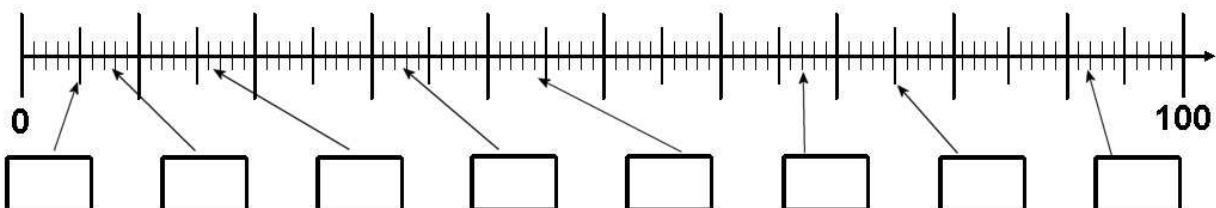
2 18 26 39 56 64 79 90



16 28 35 47 59 63 79 91



19 3 38 55 68 73 86 97



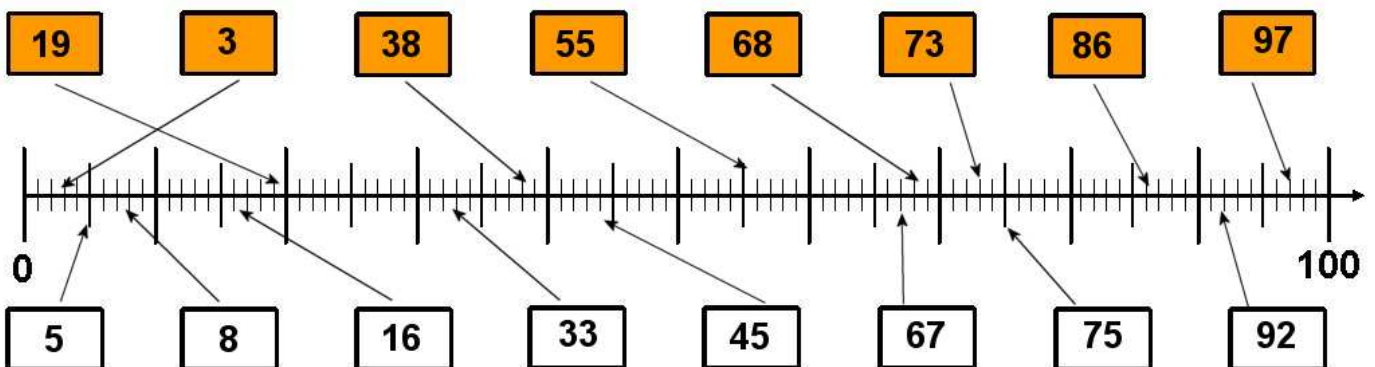
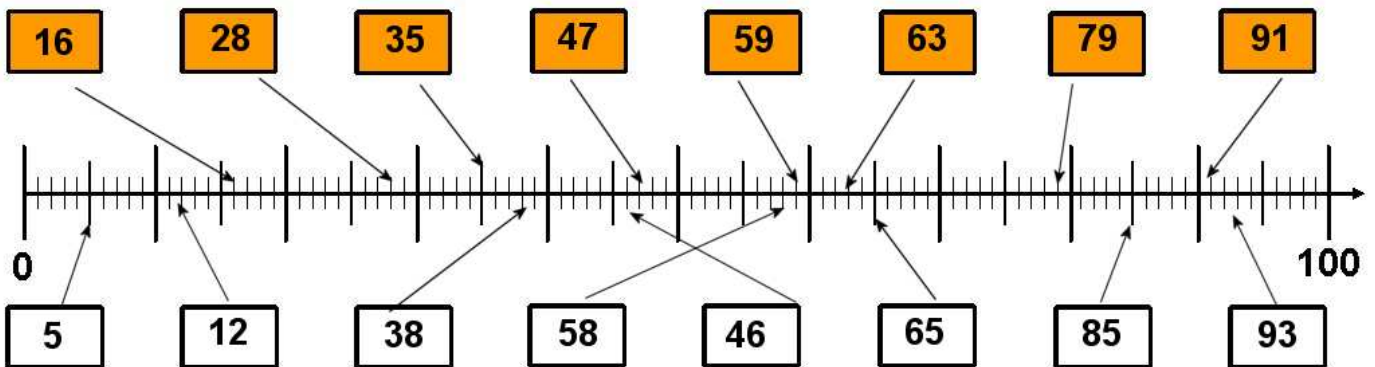
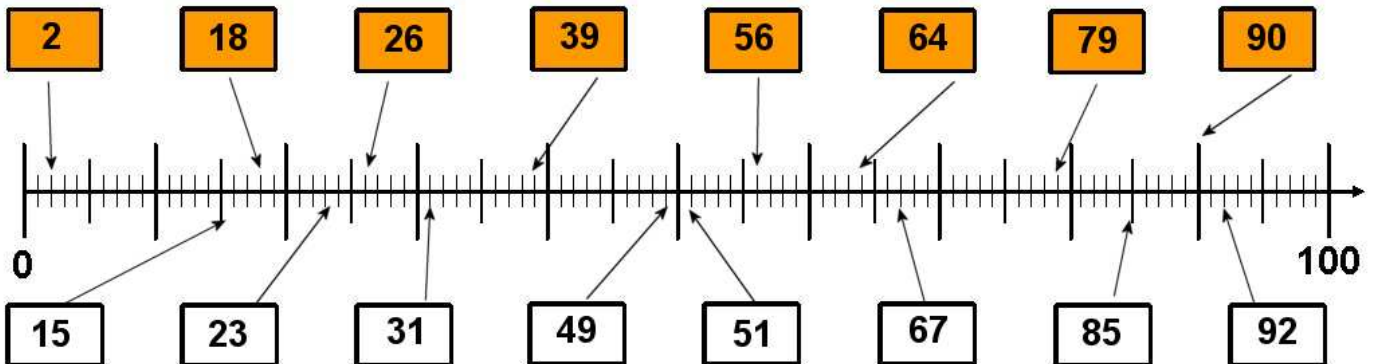
Weitere anspruchsvolle Proben für das Fach Mathematik 2. Klasse findest Du auf unserer Partnerseite www.CATLUX.de. Dort gibt es ausführliche Musterlösungen, Proben, Lernzielkontrollen, Schulaufgaben und Klassenarbeiten für alle Schularten, Klassen und Fächer, passend zum aktuellen LehrplanPLUS.



Lösung

Klasse 2

Zahlenraum 100: Zahlenstrahl



Weitere anspruchsvolle Proben für das Fach Mathematik 2. Klasse findest Du auf unserer Partnerseite www.CATLUX.de. Dort gibt es ausführliche Musterlösungen, Proben, Lernzielkontrollen, Schulaufgaben und Klassenarbeiten für alle Schularten, Klassen und Fächer, passend zum aktuellen LehrplanPLUS.

