


Arbeitsblatt für das Fach Mathe

Klasse 2

Zahlenraum bis 100: Rechnen mit Geld mit dem Euro




Wie viel Geld ist es?




_____ Euro _____ Cent



_____ Euro _____ Cent



_____ Euro _____ Cent



_____ Euro _____ Cent

Weitere anspruchsvolle Proben für das Fach Mathematik Klasse 2 findest Du auf unserer Partnerseite www.CATLUX.de. Dort gibt es ausführliche Musterlösungen, anspruchsvolle Proben, Lernzielkontrollen, Schulaufgaben und Klassenarbeiten für alle Schularten, Klassen und Fächer, passend zum aktuellen LehrplanPLUS.

Lösung

Klasse 2

Zahlenraum bis 100: Rechnen mit Geld mit dem Euro



75 Euro

29 Euro 7 Cent

62 Euro 6 Cent

68 Euro 10 Cent

Weitere anspruchsvolle Proben für das Fach Mathematik Klasse 2 findest Du auf unserer Partnerseite www.CATLUX.de. Dort gibt es ausführliche Musterlösungen, anspruchsvolle Proben, Lernzielkontrollen, Schulaufgaben und Klassenarbeiten für alle Schularten, Klassen und Fächer, passend zum aktuellen LehrplanPLUS.

