

Arbeitsblatt für das Fach Mathe

Klasse 2

Zahlenraum 100: Minusaufgaben mit Zehnerübergang



Löse die Aufgaben nach folgendem Beispiel!

$$\begin{array}{r} 54 \\ - 6 \\ \hline 48 \end{array}$$

$$54 - 4 = 50$$


$$50 - 2 = 48$$

$$36 - 8$$

$$26 - 9$$

$$78 - 9$$


$$36 - 8 =$$



$$66 - 7$$

$$55 - 8$$


$$12 - 9$$



$$34 - 7$$

$$82 - 6$$

$$56 - 8$$



Weitere anspruchsvolle Proben für das Fach Mathematik in der zweiten Klasse findest Du auf unserer Partnerseite www.CATLUX.de. Dort gibt es ausführliche Musterlösungen, anspruchsvolle Proben, Lernzielkontrollen, Schulaufgaben und Klassenarbeiten für alle Schularten, Klassen und Fächer, passend zum aktuellen LehrplanPLUS.

Lösung

Zahlenraum 100: Minusaufgaben mit Zehnerübergang



$$\underline{36 - 8 = 28}$$

$$36 - 6 = 30$$

$$30 - 2 = 28$$

$$\underline{66 - 7 = 59}$$

$$66 - 6 = 60$$

$$60 - 1 = 59$$

$$\underline{34 - 7 = 27}$$

$$34 - 4 = 30$$

$$30 - 3 = 27$$

$$\underline{26 - 9 = 17}$$

$$26 - 6 = 20$$

$$20 - 3 = 17$$

$$\underline{55 - 8 = 47}$$

$$55 - 5 = 50$$

$$50 - 3 = 47$$

$$\underline{82 - 6 = 76}$$

$$82 - 2 = 80$$

$$80 - 4 = 76$$

$$\underline{78 - 9 = 69}$$

$$78 - 8 = 70$$

$$70 - 1 = 69$$

$$\underline{12 - 9 = 3}$$

$$12 - 2 = 10$$

$$10 - 7 = 3$$

$$\underline{56 - 8 = 48}$$

$$56 - 6 = 50$$

$$50 - 2 = 48$$

Weitere anspruchsvolle Proben für das Fach Mathematik in der zweiten Klasse findest Du auf unserer Partnerseite www.CATLUX.de. Dort gibt es ausführliche Musterlösungen, anspruchsvolle Proben, Lernzielkontrollen, Schulaufgaben und Klassenarbeiten für alle Schularten, Klassen und Fächer, passend zum aktuellen LehrplanPLUS.

