


Arbeitsblatt für das Fach Mathe

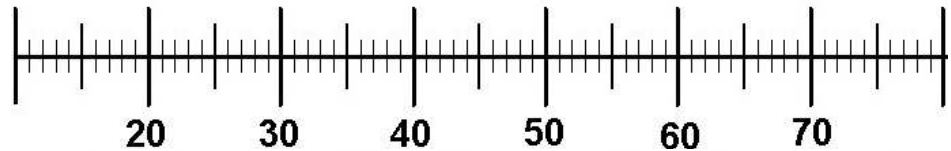
Klasse 2

Zahlenraum 100: Rechnungen am Zahlenstrahl

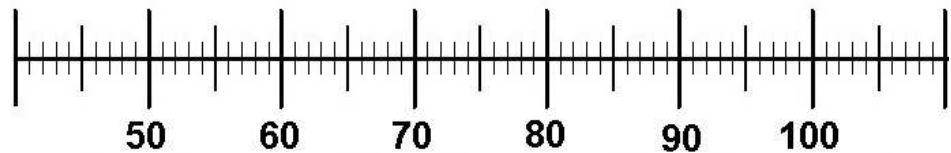


Zeichne die Pfeile ein und rechne!
Setze $<$, $>$ oder $=$ ein!

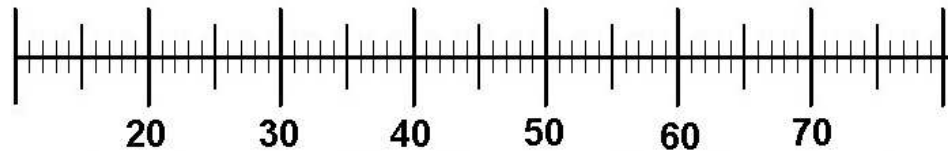
$33 + 9 \bigcirc 40$



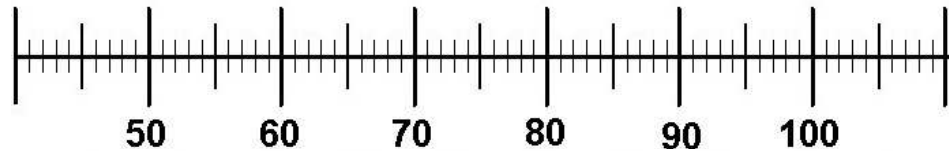
$69 + 9 \bigcirc 76$



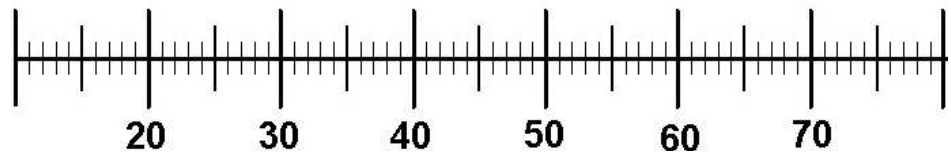
$49 + 5 \bigcirc 55$



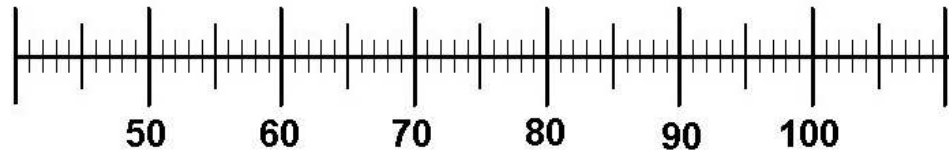
$92 - 5 \bigcirc 87$



$32 - 3 \bigcirc 28$



$58 + 7 \bigcirc 65$



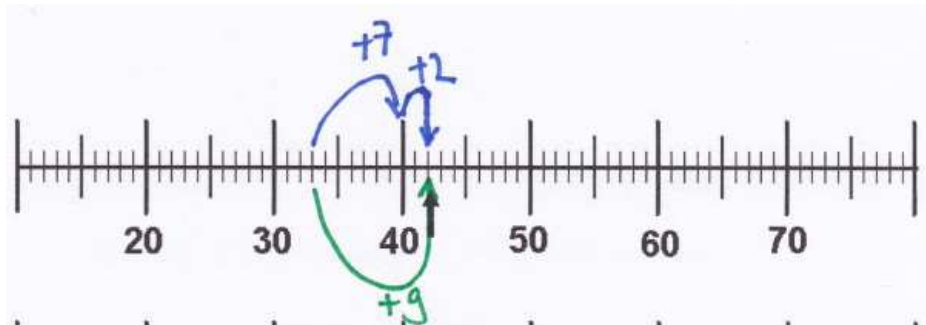
Weitere anspruchsvolle Proben für das Fach Mathematik in der zweiten Klasse findest Du auf unserer Partnerseite www.CATLUX.de. Dort gibt es ausführliche Musterlösungen, anspruchsvolle Proben, Lernzielkontrollen, Schulaufgaben und Klassenarbeiten für alle Schularten, Klassen und Fächer, passend zum aktuellen LehrplanPLUS.

Lösung

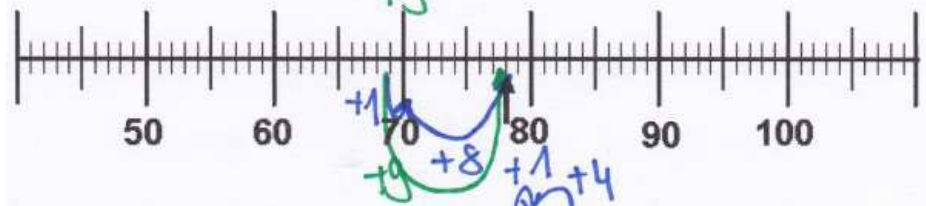
Zahlenraum 100: Rechnungen am Zahlenstrahl



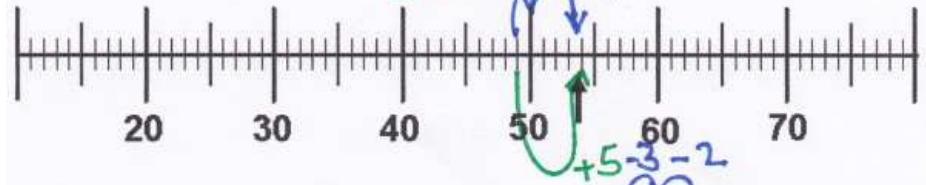
$$33 + 9 > 40$$




$$69 + 9 > 76$$



$$49 + 5 < 52$$



$$92 - 5 = 87$$



$$32 - 3 > 28$$



$$58 + 7 = 65$$



Weitere anspruchsvolle Proben für das Fach Mathematik in der zweiten Klasse findest Du auf unserer Partnerseite www.CATLUX.de. Dort gibt es ausführliche Musterlösungen, anspruchsvolle Proben, Lernzielkontrollen, Schulaufgaben und Klassenarbeiten für alle Schularten, Klassen und Fächer, passend zum aktuellen LehrplanPLUS.

