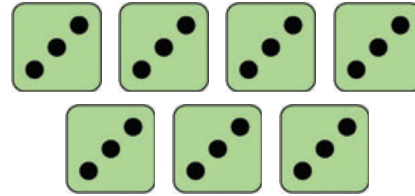
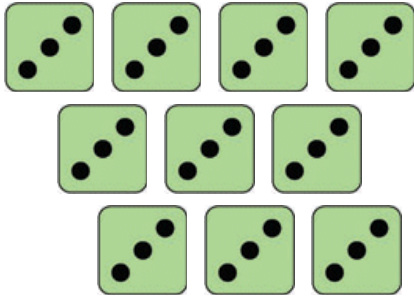
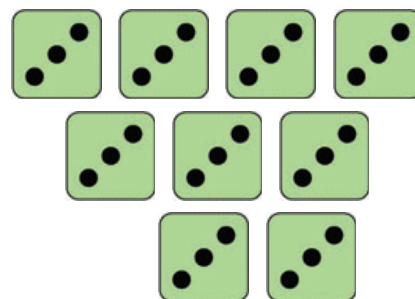



Löse die Aufgaben!



\_\_\_\_\_ = \_\_\_\_\_  
 \_\_\_\_\_ • \_\_\_\_\_ = \_\_\_\_\_

\_\_\_\_\_ = \_\_\_\_\_  
 \_\_\_\_\_ • \_\_\_\_\_ = \_\_\_\_\_



\_\_\_\_\_ = \_\_\_\_\_  
 \_\_\_\_\_ • \_\_\_\_\_ = \_\_\_\_\_

\_\_\_\_\_ = \_\_\_\_\_  
 \_\_\_\_\_ • \_\_\_\_\_ = \_\_\_\_\_

Geschafft!

# Lösung

Klasse 2

Einmaleins: 3er Reihe



$$3 + 3 + 3 + 3 + 3 + 3 + 3 + 3 + 3 + 3 = 30$$
$$10 \cdot 3 = 30$$

$$3 + 3 + 3 + 3 + 3 + 3 + 3 = 21$$
$$7 \cdot 3 = 21$$

$$3 + 3 + 3 + 3 + 3 + 3 + 3 + 3 = 24$$
$$8 \cdot 3 = 24$$

$$3 + 3 + 3 + 3 + 3 + 3 + 3 + 3 + 3 = 27$$
$$9 \cdot 3 = 27$$

Weitere anspruchsvolle Proben für das Fach Mathematik in der zweiten Klasse findest Du auf unserer Partnerseite [www.CATLUX.de](http://www.CATLUX.de). Dort gibt es ausführliche Musterlösungen, anspruchsvolle Proben, Lernzielkontrollen, Schulaufgaben und Klassenarbeiten für alle Schularten, Klassen und Fächer, passend zum aktuellen LehrplanPLUS.

