


Arbeitsblatt für das Fach Mathe

Klasse 2

Einmaleins: 6er Reihe




Löse die Aufgaben!




$$6 + \underline{\quad} + \underline{\quad} = \underline{\quad}$$

$$\underline{\quad} \cdot \underline{\quad} = \underline{\quad}$$




$$\underline{\quad} = \underline{\quad}$$

$$\underline{\quad} \cdot \underline{\quad} = \underline{\quad}$$




$$\underline{\quad} = \underline{\quad}$$

$$\underline{\quad} \cdot \underline{\quad} = \underline{\quad}$$




$$\underline{\quad} = \underline{\quad}$$

$$\underline{\quad} \cdot \underline{\quad} = \underline{\quad}$$



$$\underline{\quad} = \underline{\quad}$$

$$\underline{\quad} \cdot \underline{\quad} = \underline{\quad}$$



$$\underline{\quad} = \underline{\quad}$$

$$\underline{\quad} \cdot \underline{\quad} = \underline{\quad}$$

Geschafft!



Weitere anspruchsvolle Proben für das Fach Mathematik in der zweiten Klasse findest Du auf unserer Partnerseite www.CATLUX.de. Dort gibt es ausführliche Musterlösungen, anspruchsvolle Proben, Lernzielkontrollen, Schulaufgaben und Klassenarbeiten für alle Schularten, Klassen und Fächer, passend zum aktuellen LehrplanPLUS.

Lösung

Klasse 2

Einmaleins: 6er Reihe



$$6 + 6 + 6 = 18$$

$$3 \cdot 6 = 18$$

$$6 + 6 + 6 + 6 + 6 = 30$$

$$5 \cdot 6 = 30$$

$$6 + 6 + 6 + 6 + 6 + 6 + 6 = 42$$

$$7 \cdot 6 = 42$$

$$6 + 6 + 6 + 6 = 24$$

$$4 \cdot 6 = 24$$

$$6 + 6 = 12$$

$$2 \cdot 6 = 12$$

$$6 + 6 + 6 + 6 + 6 + 6 = 36$$

$$6 \cdot 6 = 36$$

Weitere anspruchsvolle Proben für das Fach Mathematik in der zweiten Klasse findest Du auf unserer Partnerseite www.CATLUX.de. Dort gibt es ausführliche Musterlösungen, anspruchsvolle Proben, Lernzielkontrollen, Schulaufgaben und Klassenarbeiten für alle Schularten, Klassen und Fächer, passend zum aktuellen LehrplanPLUS.

