



Arbeitsblatt für das Fach Mathe


Klasse 2


Einmaleins: 7er Reihe



Einmaleins in Tabellen. Rechne aus!

	6	2	8	4	7	3	1	5	9	10

	70	14	42	21	28	49	35	7	63	56



Mal und geteilt. Welche Zahl gehört in die Lücken?

$3 \cdot 7 =$	_____	$1 \cdot 7 =$	_____
$4 \cdot 7 =$	_____	$49 : 7 =$	_____
$2 \cdot 7 =$	_____	$35 : 5 =$	_____
$7 : 7 =$	_____	$56 : \underline{\quad} =$	8
$14 : 7 =$	_____	$14 : 2 =$	_____
$35 : 7 =$	_____	$10 \cdot \underline{\quad} =$	70
$14 : \underline{\quad} =$	2	$7 : \underline{\quad} =$	7
$7 \cdot 7 =$	_____	$63 : \underline{\quad} =$	9
$21 : \underline{\quad} =$	3	$7 \cdot 8 =$	_____
$42 : \underline{\quad} =$	6	$7 \cdot 6 =$	_____

Weitere anspruchsvolle Proben für das Fach Mathematik in der zweiten Klasse findest Du auf unserer Partnerseite www.CATLUX.de. Dort gibt es ausführliche Musterlösungen, anspruchsvolle Proben, Lernzielkontrollen, Schulaufgaben und Klassenarbeiten für alle Schularten, Klassen und Fächer, passend zum aktuellen LehrplanPLUS.

Lösung

Klasse 2

Einmaleins: 7er Reihe



	6	2	8	4	7	3	1	5	9	10
	42	14	56	28	49	21	7	35	63	70

	70	14	42	21	28	49	35	7	63	56
	10	2	6	3	4	7	5	1	9	8

$3 \cdot 7 =$	21	$1 \cdot 7 =$	7
$4 \cdot 7 =$	28	$49 : 7 =$	7
$2 \cdot 7 =$	14	$35 : 5 =$	7
$7 : 7 =$	1	$56 : 7 =$	8
$14 : 7 =$	2	$14 : 2 =$	7
$35 : 7 =$	5	$10 \cdot 7 =$	70
$14 : 7 =$	2	$7 : 1 =$	7
$7 \cdot 7 =$	49	$63 : 7 =$	9
$21 : 7 =$	3	$7 \cdot 8 =$	56
$42 : 7 =$	6	$7 \cdot 6 =$	42

Weitere anspruchsvolle Proben für das Fach Mathematik in der zweiten Klasse findest Du auf unserer Partnerseite www.CATLUX.de. Dort gibt es ausführliche Musterlösungen, anspruchsvolle Proben, Lernzielkontrollen, Schulaufgaben und Klassenarbeiten für alle Schularten, Klassen und Fächer, passend zum aktuellen LehrplanPLUS.

